



SINAVLA ÖĞRENCİ ALACAK  
ORTAÖĞRETİM KURUMLARINA  
İLİŞKİN MERKEZİ SINAV

**LGSS**

DENEYİM

**B**  
Kitapçığı

**SÖZEL  
BÖLÜM**

**6**

SORU KİTAPÇIK NUMARASI

K R L G S 0 0 0 6

T.C. KİMLİK NUMARASI : .....  
ADI : .....  
SOYADI : .....  
SALON NO : ..... SIRA NO: .....

Ders Adı	Soru Sayısı	Toplam Soru Sayısı	Sınav Süresi (Dakika)
Türkçe	20	50	75
T.C. İnkılap Tarihi ve Atatürkçülük	10		
Din Kültürü ve Ahlak Bilgisi	10		
Yabancı Dil (İngilizce)	10		

Adayın İmzası:  
Soru kitapçık numarasını cevap kâğıdındaki alana doğru kodladım.

1. Bu testte 20 soru vardır.
2. Cevaplarınızı, cevap kâğıdına işaretleyiniz.

1. Aşağıda günlük hayatta kullanılan bazı tencere türlerine ait kimi bilgiler verilmiştir.

## HANGİ TENCERE?

### BAKIR TENCERE




- İletken bir malzemedir, ısıyı çok hızlı dağıtır.
- Yüksek sıcaklıkta içinde pişen yemeği yakar, düşük sıcaklıkta uzun sürü pişen yemeğin çok lezzetli olmasını sağlar.
- Kalayla kaplıdır ve zehirli olan bu madde yüksek sıcaklıkta yemeğe karışır.
- Yalnızca tahta kaşıkla kullanılmalıdır, bakımına dikkat edilmelidir ama hafif olduğu için günlük bakımı kolaydır.
- İçinde yemek bekletmek uygun değildir.

### ÇELİK TENCERE



- Isıyı iyi iletir, eşit dağıtır ve geç soğur.
- Farklı pişirme sıcaklıklarında kullanılabilir.
- Sağlığa zararlı bileşenler içermez, onlarca yıl kullanılabilir.
- Tüm kaşık çeşitleriyle kullanılabilir, bakımı kolaydır.
- Yemekleri pişirmek için olduğu kadar saklamak için de idealdir.
- Düşük sıcaklıkta uzun süre pişirmeye uygun değildir, yemeklerin dibi tutar.

### DÖKÜM TENCERE



- Geç ısınır ve çok geç soğur.
- Yüksek ısıya dayanır, ısı dağılımı eşit olur.
- Az yağla ve uzun sürede çok lezzetli yemekler yapılmasını sağlar, hızlı kullanım için uygun değildir.
- Saf demirden yapılır ve son derece sağlıklıdır.
- Ağır olduğu için günlük kullanımı zordur ama bakımı kolaydır.
- Çizilmeye dayanıklıdır ve fırında da kullanılabilir.

Tencere almak isteyen Murat, Osman ve Özlem; bir tencereden beklentilerini şöyle sıralamıştır:

- Murat:** Benim için en önemli olan şey yemeğin lezzeti, yemeği yavaş yavaş pişirebileceğim, sağlıklı ve uzun ömürlü bir tencere arıyorum. Kullandığım kaşıkların bu tencereye zarar vermemesi gerekiyor.
- Osman:** Tencerenin uzun ömürlü olması benim için en önemli faktör, tüm kaşık tipleriyle uzun yıllar kullanabilmeliyim. Pişirdiğim tencerede yemekleri saklayabilmeliyim ve yemeklerimi hızlı pişirebilmem de önemli.
- Özlem:** Yemekte lezzete önem veriyorum. Yalnızca tahta kaşıklar kullandığım ve tencereye özenle bakacağım için ürünün hassas olması önemli değil ama hafif olması önemli. Yavaş pişen, uzun süre ocakta bekleyen yemekler yapacağım.

**Buna göre Murat, Osman ve Özlem'in alması gereken tencere tipleri aşağıdakilerin hangisinde doğru verilmiştir?**

	Murat	Osman	Özlem
A)	Döküm tencere	Çelik tencere	Bakır tencere
B)	Çelik tencere	Döküm tencere	Bakır tencere
C)	Bakır tencere	Çelik tencere	Döküm tencere
D)	Döküm tencere	Bakır tencere	Çelik tencere

2. Dünya'nın yaklaşık olarak 700 milyon ile 600 milyon yıl öncesi arasında bir buzul çağından geçtiği düşünülüyor. Sıcaklığın  $-40^{\circ}\text{C}$ 'nin altında olduğu dönemde buz katmanının kutuplardan Ekvator'a kadar tüm gezegeni kapladığı varsayılıyor. Öyle ki bu varsayımına göre sadece okyanusların derin kısımlarındaki su, gezegenin çekirdeğinin yaydığı ısı sayesinde donmadan kalabildi. Bu dönemde Dünya; uzaydan parlak, beyaz bir top gibi gözükeceğinden gezegenin geçirdiği bu buzul çağı "Kartopu Dünya" olarak adlandırılıyor.

**Bu parça aşağıdaki metin türlerinden hangisine örnek olabilir?**

- A) Köşe yazısı                      B) Makale  
C) Deneme                              D) Destan

3. 2-3 yaşından önceki anılarımızı, örneğin ilk yaş günümüzü ya da ilk kelimelerimizi genellikle hatırlayamayız. Bu durumun akla gelen ilk açıklaması, bebeklerin beyinlerinde bellek oluşumundan sorumlu bölgelerin gelişimini tamamlamamış olması. İnsanların 2-3 yaşından önceki anılarını hatırlayamaması durumu, bilimsel olarak "bebeklik unutkanlığı" olarak isimlendiriliyor. Bebeklik döneminde öğrendiğimiz bilgileri, başımızdan geçen olayları, yaşadığımız yerleri ve tanıştığımız insanları hatırlayamamızın bilimsel temeli tam olarak aydınlatılabilmemiş değil. Ancak geçmişte yaşadığımız olayları hatırlamamızı sağlayan otobiyografik belleğin oluşmasında önemli rolü olan beynin hipokampus bölgesinin bebeklik döneminde henüz gelişimini tamamlamamış olması bu durumun nedenlerinden biri olarak kabul ediliyor.

**Bu metin aşağıdaki sorulardan hangisine cevap vermek amacıyla yazılmıştır?**

- A) Bebeklik unutkanlığını nasıl giderebiliriz?  
B) Bebeklik dönemi kaç yaşından sonra biter?  
C) Bebeklerde beyin gelişimi ne zaman tamamlanır?  
D) Bebeklik anılarımızı neden hatırlayamayız?

4. Arthur efsanesinde "Excalibur", genç Arthur onu çıkararak Britanya kralı olma hakkını kazanana kadar sihirli şekilde bir taşta saplanmış bir kılıçtı. Günümüzden otuz yıl önce, İspanya'nın doğu kıyısındaki Valencia'da araştırmacılar, benzer bir pozisyonda (bir arkeolojik alanda dik olarak gömülmüş) bir silah ortaya çıkardılar ve ona Excalibur takma adını verdiler. Şimdi ise kılıç, yerel belediye idaresi tarafından analiz edildi. Demirden yapılmış kılıç yaklaşık 45 cm uzunluğunda. Kabzası, kolay tutuş için bronz plakalar ve çentiklerle süslenmiş. Bıçağın ucunun hafifçe kavisli olması, tarihlendirme konusunda kafa karışıklığı yaratıyor.

**Bu parçadan yakın zamanda bulunup "Excalibur" adı verilen kılıçla ilgili aşağıdakilerden hangisine ulaşılamaz?**

- A) Britanyalı bir kral adayına ait olduğuna  
B) Yere dik bir şekilde gömülü bulunduğu  
C) Kabzasının bronz parçalarla kaplandığına  
D) Kaç yıllık olduğunun belirlenemediğine

5. Havacılık, uzay ve teknoloji festivali olarak düzenlenen TEKNOFEST'e 2023'de 4,5 milyon kişinin katıldığını ifade eden Türkiye Uzay Ajansı Başkanı Yusuf Kıracı, Türkiye'deki gençlerin uzayla ilgili hayallerinin artık gerçeküstü olmaktan çıktığını belirtti.

**Bu cümledeki yazım yanlışları aşağıdaki değişikliklerin hangisiyle giderilebilir?**

- A) "4,5 milyon" ifadesi "4.5 milyon" şeklinde yazılmalıdır.  
B) "2023'de" ifadesi "2023'te" şeklinde değiştirilmelidir.  
C) "Havacılık, uzay ve teknoloji festivali" ifadesindeki tüm kelimeler büyük harfle başlatılmalıdır.  
D) Birleşik sözcük olan "gerçeküstü" ifadesi ayrı yazılmalıdır.



6. **Gazeteci** : ----?

**Şair** : Sözcüklerle yakın bir ilişkim var mı, hâlâ emin değilim bundan. Onlar benim için değil, bana rağmen varlar. Ama ben, bu mesafeden söz ederken dahi onlardan yardım istemek durumundayım. Bir keşiften ziyade bir tabi olma hâli bu durumda benimki. Israrla yazmayı sürdürmemin sebebi, şu sorunun yanıtını benim de merak ediyor olmam: Sözcüklerle bir ilişkim, üstelik yakın bir ilişkim var mı?

**Gazeteci** : ----?

**Şair** : Genellikle bir durum, bir olay yahut bir karşılaşma sonrasında birkaç dize mırıldanırken buluyorum kendimi. Yanımda hep küçük bir not defteri taşırım, doğru. Ama son birkaç yıldır, bu defteri dizeleri not etmek için kullandığımı pek anımsamıyorum. Akıllı telefonuma kaydediyorum artık aklıma düşenleri. Genellikle de öfkeli bir anımda, bu dizeleri de yanıma alarak bilgisayar başına geçiyorum.

**Bu konuşmada boş bırakılan yerlere düşüncenin akışına göre sırasıyla aşağıdakilerden hangisi getirilmelidir?**

- A) • Sözcüklerle bu kadar yakın bir ilişki kurulunca ne tür sorunlar ortaya çıkıyor
  - Yazmaya başlamadan önce yapmayı alışkanlık edindiğin özel bir âdetin var mı
- B) • Sözcüklerle yakın bir ilişkin olduğunu düşünüyor musun
  - Senin de “Masamda otururum.”, “Mutlaka yanımda defter taşırım.” gibi alışkanlıkların var mı
- C) • Bir şairin başarısı, sözcüklerle kurduğu yakını ilişkide mi saklıdır
  - Sence yazmak için sanatçının özel bir birikiminin ya da eğitiminin olması gerekir mi
- D) • Sözcükler ne için var, onlarla nasıl bir ilişki kurmalıyız sizce
  - Üretken bir şair olarak teknolojinin yazma serüveninde işgal ettiği yer size göre nedir

7. Uzay çalışmalarının geleceği her zaman belirsiz olmuştur çünkü bir sonraki hedefin netleşmesi için bir önceki hedefin başarıyla gerçekleşmesi gerekir. Bir hedef uğruna çalışan bilim insanları, bu esnada yeni teknolojiler geliştirir ya da yeni imkânsızlıklarla karşılaşır. Bu durum da bir sonraki hedefe ulaşmayla ilgili her şeyi sil baştan masanın üzerine koyar. Örneğin Mars’a gitmek ve orada bir koloni kurmak isteyen insanoğlu için atılması gereken ilk adım Ay yolculuğudur. İnsanlığın Ay macerası yarım asrı geçen maziye sahip olsa da buradan kalıcı bir sonuç çıkaramadığı için insanlık Mars adımlarını ne yazık ki bir türlü atamıyor. ---- .

**Bu parçada boş bırakılan yere anlam akışına göre aşağıdakilerden hangisi getirilemez?**

- A) Sonuçta insanlar, büyük hayaller kurmaya devam ediyor ama bu hayalleri gölgeleyen sorunları aşmaya da uğraşiyor
- B) Bu duruma çözüm arayan bilim insanları, Mars’tan önce Ay ile ilgili çabalarını hızlandırarak bir sonuca ulaşmaya çalışıyor
- C) Bu örnekte görüldüğü üzere konu bilim olunca hayaller sınırsız olsa da ulaşılan sonuçlar belirsiz kalmaya devam ediyor
- D) Böyle olunca bilim insanları ve bilim bir yerden sonra tıkanıyor ve çözüm üretemez, ilerleyemez bir yola giriyor

8. Sillyon, bugün bile denizden veya karadan bölgeye (I) ---- tek nokta. Sillyon'un tepesine (II) ---- Side'den Kemer'e kadar bütün deniz trafiğini görebiliyorsunuz. Stadyum da tam bu manzarayı (III) ---- şekilde yapılmış. Yani spor müsabakalarını izlemek isteyen biri sadece müsabakaları izlemiyor, çevreyi de izleyerek çok güzel vakit geçirebiliyor.

**Bu parçada numaralanmış boşluklara düşüncenin akışına göre, aşağıdakilerden hangisi getirilmez?**

	I	II	III
A)	yönelen	vardığınızda	görmeyi sağlayacak
B)	yaklaşan	ulaştığınızda	içine alacak
C)	hâkim	çıktığınızda	karşısına alacak
D)	bakan	geldiğinizde	gözlerden gizleyecek

9. Hayıflanma, sözlükte "yapılamayan bir şey için üzüntü duymak" anlamını taşıırken pişmanlık, "yapılan bir işin veya davranışın olumsuz sonucunu görerek üzülmek" anlamı taşır.

**Buna göre aşağıdaki cümlelerin hangisinde "hayıflanma" yoktur?**

- A) "Her hafta sonu seni ziyarete geleceğim." der ama bir türlü gitmezdim, şimdi o günleri düşündükçe için parçalanıyor.
- B) Başarı basamaklarını tırmanmak için elime bir fırsat geçtiğini ve bunu bir kenara ittiğimi üzülerek görüyorum.
- C) O yabancı ülkeleri, hazır oralardayken bir bir gezmek varmış; bizse bunu sürekli olarak erteleyip durduk.
- D) Her ne kadar dostlarım beni uyarsa da onları dinlemedim, sürekli onlara inat devam ettim ve sonucu ortada...

10. Etkinlik için önce Muğla'nın Fethiye ilçesine geldik. Elbette bu tür organizasyonları kotarmak kolay değil, arka bahçede görünmez kahramanlar tarafından sergilenen hummalı bir çalışma söz konusu. Katılımcılar, mükemmel bir organizasyonla hem keyifli zaman geçirdi hem de Türkiye'nin uluslararası standartlarda işaretlenmiş ilk uzun mesafeli yürüyüş rotası olan Likya Yolu'nun Fethiye başlangıç güzergâhını keşfetti.

**Bu parçadaki altı çizili sözün anlamı aşağıdakilerden hangisidir?**

- A) hastalıklı bir tavır  
B) yoğun bir faaliyet  
C) fedakâr bir davranış  
D) gizli bir çaba

11. Kalabalık ekiplerin bir arada bulunduğu ve düzenli bir iş bölümü olan yerlerde yoğun temponun da etkisiyle çeşitli sıkıntılar yaşandığı gözlenir. Bazı ekip üyelerinin kendi önceliklerine göre hareket etmeleri, iş yerindeki diğer ekip üyelerinin beklenti ve ihtiyaçlarını görmezden gelmeleri bu sıkıntılardan başında gelir. Çalışanlar, bazen bireysel olarak kendilerine hedefler koyar ve bu hedeflerin iş yerinin hedefleri ile olan uyumuna dikkat etmez. Kimi çalışanlar, bir hata yaptıklarında bunu kabul edip düzeltmeye çalışmak yerine suçu başkasına atmayı tercih eder. Bazı durumlarda ise gerginliği bir sorun çözme aracı olarak görenler olduğu gözlenir; bu kişiler, çatışma yoluyla herkesi kendilerinden uzak tutmaya çalışır.

**Aşağıdakilerden hangisi bu parçada sözü edilen olumsuz davranış türlerinden biri değildir?**

- A) Kendi kişisel önceliklerini, iş arkadaşlarının ihtiyaç ve beklentilerinin önüne koyma  
B) Kendi hedeflerini gerçekleştirmek için iş yerinin hedeflerini görmezden gelme  
C) Başkaları tarafından yapılan hataları olduğundan büyük göstererek sorunları büyütme  
D) Çatışmayı ve böylelikle insanları kendisinden uzak tutmayı alışkanlık hâline getirme



12. Çocukların dili öğrenmesi için her gün karşılaştıkları sözcükleri ( ) çevredeki sesleri ve görüntüleri bir araya getirmesi gerekir. Peki ( ) yapay zekâya bu yolla dil öğretilir mi ( ) Bilim insanları ( ) görüntüler ( ) sesler ve yazılı metinler kullanarak bir yapay zekâ modelini küçük bir çocuğun dil öğrenmesine benzer şekilde eğittiler. Sürecin sonunda yapay zekâ da dili tıpkı bir çocuk gibi öğrenebildi.

**Bu metinde yay ayrıçla boş bırakılan yerlere sırasıyla aşağıdaki noktalama işaretlerinden hangisi getirilmelidir?**


- A) (,) (,) (?) (;) (,)                      B) (,) (;) (?) (,) (,) (,)  
C) (;) (;) (...) (;) (;)                      D) (,) (,) (...) (,) (,)

13. Bazı sıfat-fiil ekleri ile çeşitli zaman ve olumsuzluk ekleri şekil olarak benzerlik gösterir. Bunlar “-acak, -ar, -mez, -miş” ekleridir.

**Buna göre, aşağıdaki dizelerin hangisinde altı çizili sözcük sıfat-fiildir?**

- A) Bilmezdim şarkıların bu kadar güzel, Kelimelerinse kifayetsiz olduğunu  
B) Yaşadıklarımın öğrendiğim bir şey var: Yaşadın mı, yoğunluğuna yaşayacaksın bir şeyi  
C) Utunulacak bir şey değildir ağlamak, Yürekten süzülüp geliyorsa gözyaşı eğer  
D) Her gün bu kadar güzel mi bu deniz? Böyle mi görünür gökyüzü her zaman?

14. Pelin, Rıza, Semra, Tuncer, Ulaş ve Vildan adlı arkadaşlar, aşağıda görseli verilen ve sekiz kişinin oturabileceği bir masada toplantı yapmaktadır.



Yalnızca bu kişilerin katıldığı toplantıdaki oturma düzeni ile ilgili bilinenler şunlardır:

- Aynı sırada oturan Pelin ve Tuncer'in arasındaki sandalye boştur.
- Rıza'nın tam sağına sandalye yoktur, tam karşısında Tuncer oturmaktadır.
- Vildan yan yana bulunan üç sandalyeden ortada olanda oturmaktadır.
- Ulaş'ın tam karşısındaki sandalye boştur.

**Yalnızca bu bilgilere göre aşağıdakilerden hangisi söylenemez?**

- A) Ulaş, tek sandalyelerden birinde oturmaktadır.  
B) Vildan'ın karşısındaki sandalye boştur.  
C) Semra ve Rıza, yan yana oturmaktadır.  
D) Vildan'ın solunda Semra oturmaktadır.

15. • Kutup ayılarının kürklerindeki kılların merkezinde ısıyı hapseden hava cepleri bulunur ve bu cepler kutup ayılarının donmasını önler.
- Kutup ayılarının kılları su itici bir yapıya sahiptir ve suya değseler bile kutup ayıları sürekli kuru kaldıklarından donmaz.



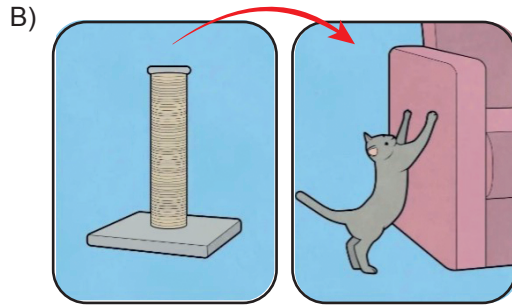

**Bu iki cümlenin anlamca doğru bir biçimde birleştirilmiş hâli aşağıdakilerden hangisidir?**

- A) Kutup ayılarının kılları hem suya değse bile kuru kalan su itici bir yapıya sahiptir hem de bu kılların merkezinde ısıyı hapseden hava cepleri bulunur ve bu sebeplerden kutup ayıları donmaz.
- B) Kutup ayılarının kıllarının merkezinde ısıyı hapseden ve suyu iten hava cepleri olduğundan kutup ayıları ıslansalar bile soğuk havalarda donmadan yaşamlarını devam ettirebilir.
- C) Havalarda ne kadar soğuk ya da yağışlı olursa olsun kutup ayıları, kalın tüyleri ve bu tüylerde yer alan kesecikler sayesinde hem ıslanmaz hem de soğukta üşüyüp donma tehlikesi yaşamaz.
- D) Kalın bir kürke sahip olan kutup ayıları, bu kürkteki kılların hava cepleri içeren gözenekli hâllerinden dolayı hem yağışlı havalarda ıslanarak donmaktan kurtulur hem de dışarıda ısı kaybetmez.

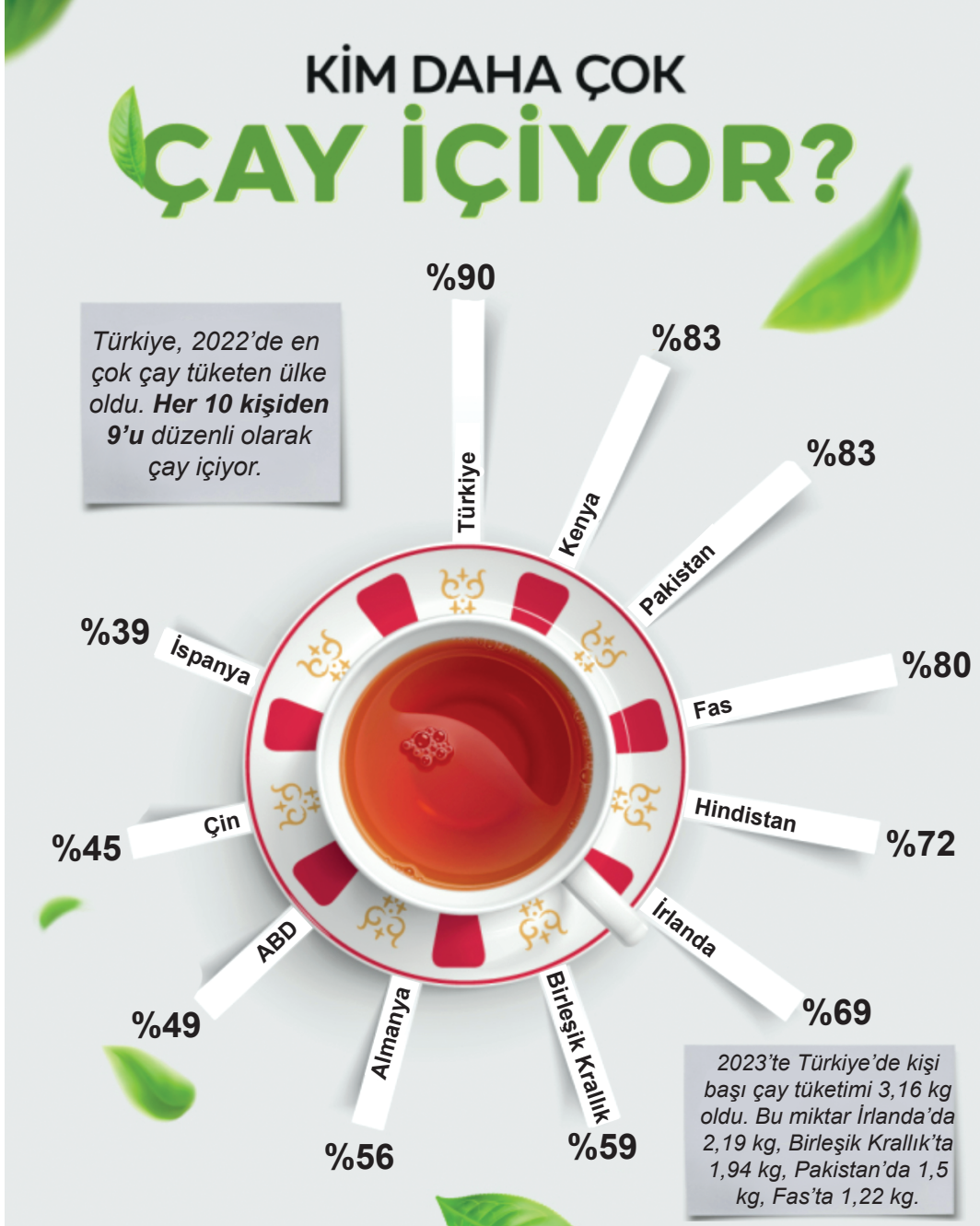
16. Aşağıdaki görsellerden hangisi,

- Mum dibine ışık vermez.
- Kelin ilacı olsa başına sürer.
- Terzi kendi söküğünü dikemez.

**atasözlerinden herhangi biri ile doğrudan ilişkilidir?**



17.



Bu infografikten (bilgilendirici görsel) aşağıdakilerin hangisine ulaşılabilir?

- A) Fas'ta nüfusun daha büyük bir kısmı günlük olarak çay tüketse de İrlanda'da kişi başı miktar Fas'tan fazladır.
- B) Çay tüketimi, kalabalık ve genç bir nüfusa sahip ülkelerde diğer ülkelere göre daha fazla olmaktadır.
- C) Türkiye hem günlük tüketim oranı hem kişi başı tüketim miktarı hem de toplam üretimde birinci sıradadır.
- D) Dünya genelinde insanların en az yarısı, her gün düzenli olarak çay ve çay ürünleri tüketmektedir.



18. Türk havacılık sektörü, 2003 yılından itibaren çıkarılan yasal düzenlemelerle hızla büyüdü. Sektör, hava yolu şirketlerinin artmasına paralel olarak altyapı ve filo yatırımları, bağlantı sayısı ve uçak bilet fiyatlarındaki düzenlemelerle büyümesini son dönemde de sürdürdü. Öyle ki Türkiye’de 2003’te sektörde yaklaşık 65 bin çalışan istihdam edilirken bu sayı günümüzde 263 bine ulaştı. Bunun yaklaşık 15 bini pilotlardan oluşuyor. Sektörün ulaştığı gelir 2003’ten itibaren Türk lirası bazında 218 kat, dolar bazında ise kurdaki artışa rağmen 16 kat artış gösterdi. Sivil havacılık işletmeleri bünyesinde günümüzde 668 uçak bulunuyor. Ayrıca 207 hava taksi, 524 genel havacılık aracı, 431 balon ve 26 çok hafif hava aracı olmak üzere 1.856 araç faaliyet gösteriyor.

**Bu metinle ilgili aşağıdakilerden hangisi söylenemez?**

- A) Sıklıkla sayısal verilere yer verilmiştir.
- B) Anlatıma nesnel unsurlar hâkimdir.
- C) Karşılaştırmalara başvurulmuştur.
- D) Olaya dayalı anlatım yapılmıştır.

19. Bir cümlenin özne ve yüklemi arasında bazı ilgiler bulunur. Örneğin bir cümlenin yüklemde yer alan eylemin yapanı belli iken başka bir cümlede yüklemde bildirilen işi kimin yaptığı anlaşılabilir. Bu durum “etken ve edilgen” olarak adlandırılır. Yüklemi etken bir fiil olan “Aslı, uzak bir adaya yolculuk yapmış.” cümlesinde “yapma” eyleminin sahibi üçüncü tekil kişi yani “o”dur. Yüklemi edilgen bir fiil olan “İş yerine pek çok yeni personel alındı.” cümlesinde ise “alma” işini kimin yaptığı söylenmemiştir.

**Buna göre aşağıdaki cümlelerin hangisinde yüklem edilgendir?**

- A) Bütün gün çok çalıştıktan sonra evde beni bekleyen sofrayı görünce çok sevindim.
- B) Bazı insanlar, iyi derecede matematik bilir ama iyi bir arkadaşlığın denklemini çözemez.
- C) Umutlarını hayallerine sığdıran çocuklar tanım uzak diyarlarda yaşamaya çalışır.
- D) Geçen hafta tadilatına başlanan eski evin duvarları boyandı ama hepsi bu kadar...

20.



**Aşağıdaki sözlerden hangisi, bu görselin vermek istediği mesajla aynı doğrultudadır?**

- A) Sen yeter ki işini yapmaya gönüllü ol, yanlış yerde olman sorun değil.
- B) Her zaman değil ama bazen eğri cetvelden de doğru çizgi çıkar.
- C) Uyum sağlamış olman, doğru yerde olduğun anlamına gelmiyor.
- D) Herkesin doğrusu kendine, doğru bildiğin yolda devam etmelisin.

**TÜRKÇE TESTİ BİTTİ.**

**T.C. İNKILAP TARİHİ VE ATATÜRKÇÜLÜK TESTİNE GEÇİNİZ.**

1. Bu testte 10 soru vardır.
2. Cevaplarınızı, cevap kâğıdına işaretleyiniz.

1. Türk Medeni Kanunu ile sağlanan bazı haklar ve ortaya çıkan yeni durumlar şunlardır:
  - Tek eşle evlilik kabul edildi ve evliliğe resmî nikâh zorunluluğu getirildi.
  - Mirastan kadın ve erkeğin eşit pay alması sağlandı.
  - Mahkemelerde kadın ve erkeğin şahitliği eşit sayıldı.
  - Kadınlara istediği mesleğe girme hakkı tanındı.
  - Kadınlara boşanma hakkı verilerek kadınlar erkeklerle eşit hâle getirildi.

**Bu bilgilerden hareketle Medeni Kanun ile ilgili aşağıdakilerden hangisine ulaşamaz?**

- A) Kadınlara toplumsal ve ekonomik haklar tanımıştır.
- B) Toplumda eşitliği sağlayan bir yeniliktir.
- C) Halkçılık ilkesi doğrultusunda yapılan inkılaplardan biridir.
- D) Kadınların siyasi hayatta rol almasını sağlamıştır.

2. "Medeniyet yolunda başarı, yenileşmeye bağlıdır. Sosyal hayatta, ekonomik hayatta, ilim ve fen sahasında başarılı olmak için tek gelişme ve ilerleme yolu budur. Hayat ve geçime egemen olan kuralların zaman ile değişme, gelişme ve yenilenmesi zorunludur."

*Kemal Atatürk*

**Atatürk'ün bu sözü onun aşağıdaki ilkelerinden hangisiyle ilişkilendirilebilir?**

- A) Milliyetçilik
- B) Devletçilik
- C) İnkılapçılık
- D) Cumhuriyetçilik

3. Yunanların Batı Anadolu'dan atılmasının ardından İtilaf Devletleriyle 11 Ekim 1922'de Mudanya Ateşkes Antlaşması imzalandı. Antlaşmaya göre, Yunanlarla olan çatışma sona ermiş; Doğu Trakya, Boğazlar ve İstanbul'un yönetimi TBMM Hükûmetine bırakılmış ve bu yerler hiç savaş yapılmadan işgalden kurtarılmıştır.

**Bu bilgilere göre, Mudanya Ateşkes Antlaşması ile ilgili,**

- I. Millî Mücadele'nin askerî safhası sona ermiştir.
- II. İstanbul, TBMM Hükûmetine bırakılarak Osmanlı Devleti hukuken yok sayılmıştır.
- III. Kapitülasyonlar kaldırılmıştır.

**yargılarından hangilerine ulaşılabilir?**

- A) I ve II
- B) I ve III
- C) II ve III
- D) I, II ve III

4. İtalya'nın Trablusgarp'ı işgal etmesi üzerine Osmanlı Devleti Mısır'ın işgal altında bulunması ve güçlü bir donanmadan yoksun olması gibi nedenlerle Trablusgarp'ı savunamamıştır. Ancak gizlice gönderdiği subaylarla Trablusgarp halkını İtalyanlara karşı hareketlendirmiştir. Yerli halkın direnişi karşısında kalan İtalya, Osmanlı Devleti'ni barışa zorlamak için Ege Denizi'ndeki On İki Ada'ya saldırmıştır. (1912)



Verilen bilgiler ve haritadan hareketle Osmanlı Devleti'nin Trablusgarp'ı savunamamasının nedenleriyle ilgili,

- I. Trablusgarp ile karadan bağlantısı kopmuş durumdadır.
- II. İtalyan donanmasına karşı koyacak deniz gücünden yoksundur.
- III. Trablusgarp halkı İtalyanlar yanında yer almıştır.

çıkarımlarından hangilerine ulaşılabilir?

- A) I ve II                      B) I ve III                      C) II ve III                      D) I, II ve III

5. "...Makbule Hanım'ın anlattığına göre ana oğul arasında bir tartışma başlıyor. Zübeyde Hanım 'Ben seni asker yapamam. Baban gibi tüccar yapacağım!' diyor. Mustafa ısrarla 'Ben mutlak asker olacağım. Omzumda basma topu taşıyamam!' diye çıkışıyor ve ayak diyor. Fakat fayda etmiyor, annesi resmî evrakı mühürlemeyeceğini söylüyor..."

(D. Genç Acar, "Makbule Atadan'ın Atatürk'e İlişkin Anlattıkları Üzerine Bir Basın Taraması")

Bu bilgilerden Mustafa Kemal'in aşağıdaki kişilik özelliklerinden hangisine ulaşılabilir?

- A) İleri görüşlülüğüne      B) Kararlılığına              C) Teşkilatçılığına              D) Çok yönlülüğüne

6. Atatürk Dönemi'nde ekonomik kalkınmayı sağlamak amacıyla sanayi, ticaret ve tarım alanlarında çalışmalar ve yatırımlar yapılmıştır.

**Buna göre aşağıdakilerden hangisi Atatürk Dönemi'nde ekonomi alanında yapılan çalışmalara örnek gösterilemez?**

- A) Türkiye İktisat Kongresi'nin yapılması  
B) Teşvik-i Sanayi Kanunu'nun çıkarılması  
C) Tevhid-i Tedrisat Kanunu'nun çıkarılması  
D) Kabotaj Kanunu'nun kabul edilmesi

7. Türkiye , dış politikada Atatürk Dönemi'nde dünya barışını korumak ve dünya barışına katkıda bulunmak için çeşitli adımlar atmış ve antlaşmalar imzalamıştır.

**Buna göre Atatürk Dönemi dış politikası ile ilgili,**

- I. Balkan Antantı'nın imzalanması,  
II. Milletler Cemiyetine üye olunması,  
III. Sadabat Paktı'nın imzalanması

**çalışmalarından hangileri bu duruma örnek gösterilebilir?**

- A) I ve II  
B) I ve III  
C) II ve III  
D) I, II ve III

8. "Hâkimiyeti milliye esasına dayanan ve bilhassa cumhuriyet idaresine malik bulunan memleketlerde siyasi partilerin mevcudiyeti tabiidir. Türkiye Cumhuriyeti'nde de birbirini denetleyen partilerin olacağına şüphe yoktur."

*Kemal Atatürk*

**Buna göre, Atatürk Dönemi'nde yaşanan,**

- I. Terakkiperver Cumhuriyet Fırkası'nın kurulması,  
II. Takrir-i Sükûn Kanunu'nun çıkarılması,  
III. Serbest Cumhuriyet Fırkası'nın kurulması

**gelişmelerinden hangileri, onun bu sözleri doğrultusunda gerçekleşmiştir?**

- A) I ve II  
B) I ve III  
C) II ve III  
D) I, II ve III

9. Lozan Barış Antlaşması'na göre Boğazların yönetimi, başkanı Türk olan uluslararası bir komisyona bırakılmıştı. Montrö Boğazlar Sözleşmesi ile Boğazlarda komisyon kaldırılarak Boğazların yönetimi tamamen Türkiye'ye bırakılmıştır.

**Buna göre Boğazlar ve Boğazlar Meselesi ile ilgili aşağıdakilerden hangisine ulaşamaz?**

- A) Egemenlik Türkiye'ye geçmiştir. B) Tam bağımsızlık sağlanmıştır.  
C) Uluslararası ticaret canlanmıştır. D) Barışçı yolla çözülmüştür.
10. I. İnönü Savaşı'nın kazanılması kamuoyunun TBMM'ye olan güvenini artırdı. TBMM, bu güven ortamında ilk anayasası Teşkilat-ı Esasiye Kanunu'nu (1921 Anayasası) kabul etti. Bu anayasa savaş ortamında hazırlandığı için ve kararların hızlı alınması amacıyla güçler birliği ilkesiyle çalışmıştır.
- Buna göre Teşkilat-ı Esasiye Kanunu'nun aşağıdaki maddelerinden hangisi güçler birliği ilkesiyle çalıştığını göstermektedir?**
- A) Egemenlik kayıtsız şartsız milletindir.  
B) Yürütme gücü ve yasama yetkisi Büyük Millet Meclisinde toplanmaktadır.  
C) Büyük Millet Meclisi seçimleri iki yılda bir yapılır.  
D) Türkiye Devleti, Büyük Millet Meclisince yönetilir ve hükûmeti, Türkiye Büyük Millet Meclisi Hükûmeti adını alır.

**T.C. İNKILAP TARİHİ VE ATATÜRKÇÜLÜK TESTİ BİTTİ.  
DİN KÜLTÜRÜ VE AHLAK BİLGİSİ TESTİNE GEÇİNİZ.**

1. Bu testte 10 soru vardır.
2. Cevaplarınızı, cevap kâğıdına işaretleyiniz.

1. "... Siz de tıpkı sizden öncekiler gibisiniz: Onlar sizden daha güçlü, malları ve çocukları daha fazlaydı. Onlar paylarına düşenden faydalanmışlardı. Sizden öncekilerin, paylarına düşenden faydalandığı gibi siz de payınıza düşenden öylece faydalandınız ve onların daldığı gibi, siz de (dünya zevkine) daldınız. İşte onların dünyada da ahirette de amelleri boşa gitmiştir. İşte onlar ziyana uğrayanların ta kendileridir. Onlara kendilerinden öncekilerin; Nûh, Âd ve Semûd kavimlerinin; İbrahim'in kavminin; Medyen halkının ve yerle bir olan şehirlerin haberleri ulaşmadı mı? Peygamberleri onlara apaçık mucizeler getirmişti. (Ama inanmadılar, Allah da onları cezalandırdı.) Demek ki Allah onlara zulmediyor değildi, ama onlar kendilerine zulmediyorlardı." (Tevbe suresi, 69-70. ayetler)

**Yukarıdaki ayet;**

- I. toplumsal yasa,
- II. kıssa,
- III. infak

**kavramlarından hangileriyle ilişkilendirilebilir?**

- |              |                 |
|--------------|-----------------|
| A) Yalnız I  | B) I ve II      |
| C) II ve III | D) I, II ve III |

2. İslam dini;

- türbelerde yatan kişilerin insan üstü varlıklar olarak görülmesini,
- türbelere çaput ve bez bağlanmasını,
- kabrin başında yüksek sesle ağlayıp gürültü yapılmasını,
- türbelere ve orada yatanlara adak adanmasını

yasaklamıştır.

**Bu yasakların asıl amacı aşağıdakilerden hangisidir?**

- A) Doğru din anlayışına zarar verecek davranışlardan insanları uzak tutmak
- B) Kabirlerin bakım ve düzenini sağlamak
- C) Dinin bir kazanç kapısı olarak görülmesini engellemek
- D) İnsanların sağlığını korumak

3. Varlıklar dünyasında yaşayan insan, bu dünyayı anlamaya ve yorumlamaya çalışır. Görünen dünyayı duyu organları aracılığıyla ve geliştirdiği araçlarla inceler. Göklerdeki mükemmel yaratılışı, yeryüzündeki eşsiz güzelliği, evrendeki sonsuz düzeni fark eden insan sorgulamaya devam eder ve cevabını merak ettiği şu soruları sorar: "Evre ni kim yarattı? Bu mükemmel düzeni kim sağlıyor? İnsan niçin var edildi? Bu varlıkların sonu ne olacak?"

**Buna göre, insan ile ilgili aşağıdakilerden hangisi söylenemez?**

- A) Düşünen ve sorgulayan bir varlıktır.
- B) Cevabını aradığı birtakım sorular bulunmaktadır.
- C) Anlam arayışı içindedir.
- D) İbadet ile ilgili sorunları bulunmaktadır.



4. Hz. Muhammed (sav) bir eve davetliyken o evde bulunan kadının "Gel, sana bir şey vereceğim." diyerek çocuğunu yanına çağırdığını fark eder ve bu kişiye "Çocuğuna ne verecektin?" diye sorar. Kadın, çocuğuna hurma vereceğini söyleyince Allah Resulü "Eğer aldatıp ona bir şey vermeseydin sana bir yalan günahı yazılmış olurdu." buyurur.

**Hız. Muhammed (sav), bu olaydaki tavrıyla aşağıdakilerden hangisinin önemini vurgulamıştır?**

- A) Verilen sözü yerine getirmeyi
- B) Çocuklara karşı şefkatli olmayı
- C) Başarının ödüllendirilmesi gerektiği
- D) Affedici olmayı

5. "...Fecrin beyaz ipi siyah ipinden sizin için ayırt edilir hale gelinceye kadar yiyin için, sonra orucu geceye kadar tamamlayın..." (Bakara suresi, 187. ayet) ayeti indirildikten sonra bir sahabe eline biri siyah, diğeri beyaz iki ip alır. Bunları birbirinden ayırt edebileceği zaman gelince oruca başlar. Daha sonra bu durumu Hz. Peygamber'e (sav) anlattığında o, tebessüm ederek ayette kastedilenin gündüzün beyazlığı ve gecenin siyahlığı olduğunu açıklar.

**Bu metinden aşağıdakilerden hangisine ulaşılabilir?**

- A) Oruç, ahlakı yücelten bir ibadettir.
- B) Ayetler, insanın algılama gücünün ötesinde bilgiler sunmaktadır.
- C) İbadetleri yerine getirirken gösterişten kaçınılmalıdır.
- D) Hz. Peygamber'in (sav) açıklamaları Kur'an'ın anlaşılmasını kolaylaştırmaktadır.

6. Hz. Muhammed (sav) insanlara sevgi, şefkat ve merhametle yaklaşırdı. Başkalarının düşüncelerine, değerlerine saygı gösterirdi. Karşılaştığı kimselere selam verir, onlara güler yüzlü davranırdı. Toplumdaki yaşlı, yetim ve kimsesizleri ziyaret eder, onlarla yakından ilgilenirdi.

**Bu metinden Hz. Muhammed (sav) ile ilgili aşağıdakilerden hangisine ulaşamaz?**

- A) Sevgi ve rahmet peygamberiydi.
- B) Ayrım yapmadan bütün insanlara değer verirdi.
- C) Davasını cesaret ve kararlılıkla savunurdu.
- D) Örnek bir iletişim tarzına sahipti.



7. Şampiyonluk yarışında önemli bir maça çıkacak olan takım, çalışmalarını sürdürmektedir. Takımın en önemli oyuncularından biri ise antrenmanlarda isteksiz ve ciddiyetsiz bir görüntü çizmektedir. Sporcuların bu durumunun farkında olan antrenör, oyuncusuyla özel olarak görüşür. Bu görüşmede antrenör, rakipleriyle yapacakları kritik maçın önemine vurgu yapar. Futbolcu ise antrenmanlardaki eksikliklerine rağmen "Kendimi bu maç için hazır hissediyorum. Allah'ın izniyle birden fazla da gol atacağım." demiştir.

**Buna göre bu futbolcunun kader ile ilgili;**

- I. tevekkül,
- II. sağlık,
- III. başarı

**kavramlarından hangilerini yanlış anladığı söylenebilir?**

- A) Yalnız II
- B) I ve II
- C) I ve III
- D) I, II ve III